

گراد

[GRAD] [گروه آموزشی]

نهم دبستان

برگ آزمون جامع ماهانه



هدیه‌های آسمان

مطالعات اجتماعی

فارسی

ریاضی

علوم

آزمون‌های ماهانه بر مبنای جدول بودجه بندی

ارزشیابی نوبت اول و دوم

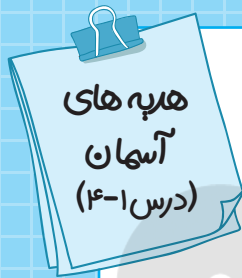
پاسخنامه آنلاین

دریافت پاسخنامه



قیمت: ۹۰/۰۰۰ تومان





ارزشیابی مهر ماه

نام آموزگار:

نام دبستان:

نام و نام خانوادگی:

الف) درستی یا نادرستی عبارات های زیر را مشخص کنید

- درست نادرست
 درست نادرست

۱- همه ی پیامبران کتاب آسمانی و معجزه داشتند.

۲- پس از امام حسن (ع)، معاویه جانشین پیامبر «ص» شد.

ب) گزینه درست را انتخاب کنید

۳- در سوره توحید به کدام صفت خداوند اشاره می شود؟

- الف) یکتا ب) بی نیاز ج) بخشنده د) الف و ب

۴- پیامبران کربلا که بود؟

- الف) حضرت زینب (س)
 ب) قاسم ابن الحسن (ع)
 ج) امام سجاد (ع)
 د) حضرت رقیه (س)

۵- در آیه «لَقَدْ مَنَّ اللَّهُ عَلَى الْمُؤْمِنِينَ إِذْ بَعَثَ فِيهِمْ رَسُولًا مِنْ أَنْفُسِهِمْ» درباره کدام ویژگی پیامبران سخن گفته شده است؟

- الف) معجزه
 ب) انتخاب از میان مردم
 ج) دعوت به پرستش خداوند
 د) مبارزه با ظلم

ج) جای خالی را با کلمه های مناسب پر کنید


۶- بهترین راهنمایان ما و هستند.

۷- اولین پیامبر خدا و آخرین پیامبر است.

۸- از نظر حضرت محمد (ص) چراغ هدایت و کشتی نجات است.



۱۱- با توجه به بیت زیر به سوالات پاسخ دهید.



با آن که سخن به لطف آب است کم گفتن هر سخن صواب است

الف) ردیف و قافیه را مشخص کنید.

ب) این به چند جمله دارد.

ج) نهاد جمله ی آخر کدام است؟

۱۲- هر یک از واژگان زیر چند هجا دارد؟

دیدنی ها

گرفتار

افزودنی

خواستار

۱۳- کلمات زیر را با (ان - ها - ات) جمع ببندید.

نغمه - خط - غنچه - اطلاع - پرنده - فرزند - تغییر

۱۴- بیت زیر چند جمله دارد؟ نوع ترکیبات آن را مشخص کنید.

یک دسته گل دماغ پرور از خرمن صد گیاه، بهتر

۱۵- چه تعداد از واژه های زیر درست معنی شده اند.

تعلیم: آموزش گرانها: با ارزش قافله: شتران همتا: زیبا نظاره کرد: مشاهده کرد


۱۶- سراینده ی نخستین سرود جمهوری اسلامی ایران کیست؟

[انتشارات گراد]

ارزشیابی

خیلی خوب خوب قابل قبول نیاز به تلاش بیشتر





ارزشیابی آبان ماه

نام و نام خانوادگی:

نام دبستان:

نام آموزگار:

الف) درستی یا نادرستی عبارات های زیر را مشخص کنید

- ۱- مهمترین گازهای خارج شده از دهانه آتشفشان ها اکسیژن و کربن دی اکسید می باشد. درست نادرست
- ۲- جنس سنگهای پوسته با سنگهای گوشته و هسته یکی است. درست نادرست
- ۳- هسته داخلی درونی ترین لایه زمین است که حالت مذاب دارد. درست نادرست
- ۴- دماوند و تفتان جزو آتشفشان های خاموش هستند. درست نادرست

ب) گزینه درست را انتخاب کنید

- ۵- از گزینه های زیر کدام یک را به عنوان یک اسید خوراکی انتخاب نمی کنید؟
 الف) جوهر لیمو ب) سرکه ج) آبلیمو د) جوهر نمک
- ۶- کدام مورد از اقدامات قبل از وقوع زمین لرزه است؟
 الف) حفظ خونسردی ب) کمک به مصدومین ج) پناه گرفتن در جای امن د) برگزاری مانور زلزله
- ۷- کدام یک از موارد زیر جزو ضرر های آتشفشان نیست؟
 الف) تشکیل پوکه های معدنی ب) انتشار گازهای سمی ج) سونامی د) ریزش باران های اسیدی
- ۸- مواد مذاب آتشفشانی در زیر کدام شهر زودتر به سطح زمین می رسد؟
 الف) شهر کرد ب) یاسوج ج) یزد د) ماسوله

ج) جای خالی را با کلمه های مناسب پر کنید

- ۹- امواج لرزه ای درون زمین از سنگهای سخت و متراکم عبور می کند.
- ۱۰- ذخایر نفت و گاز و زغال سنگ در لایه زمین واقع شده اند.
- ۱۱- شکستن سدها از اثرات زمین لرزه می باشد.
- ۱۲- به محل آزاد شدن انرژی زمین، می گویند.



۸- عبارت زیر را بخوانید و به سوالات پاسخ دهید.

دالا، دیدی آن عاشقان را؟

جهانی رهایی در آوازشان بود

و در بند، حتی قفس شرمگین از شکوفایی شوق پروازشان بود!

الف) فعلهای متن بالا را بنویسید.

ب) مفعول را مشخص کنید.

ج) حروف اضافه و متمم را مشخص کنید.

د) نهاد جمله ی دوم و سوم کدام است؟

۹- با توجه به بیت زیر به سوالات پاسخ دهید.



تاریخ در تلفظ نام تو الکن است

دریاقلی! به وسعت دریاست نام تو



الف) نهاد مصراع اول در کدام گزینه آمده است؟

تاریخ

نام تو

دریاقلی

وسعت دریا

ب) بیت چند جمله دارد؟

۲

۳

۱

۴

ج) آرایه ی به کار رفته در مصراع اول و در مصراع دوم است.

[انتشارات گراد]


ارزشیابی

خیلی خوب خوب قابل قبول نیاز به تلاش بیشتر





آزمون نوبت اول



نام آموزگار:

نام دبستان:

نام و نام خانوادگی:

الف) درستی یا نادرستی عبارات های زیر را مشخص کنید

- ۱- در دوران غیبت کبری امام زمان (عج) افراد خاصی را به عنوان جانشین به مردم معرفی کرد. درست نادرست
- ۲- تبری به معنی دوستی با دوستان خداوند می باشد. درست نادرست
- ۳- همه ی پیامبران کتاب آسمانی داشته اند. درست نادرست
- ۴- صفوان از یاران امام کاظم (ع) بود و در زمان هارون زندگی می کرد. درست نادرست
- ۵- مسافری که بیشتر از ۲۲/۵ کیلومتر از وطنش دور شود و به جایی برسد که نخواهد ده روز بماند، نمازش در آنجا شکسته است. درست نادرست

ب) گزینه درست را انتخاب کنید

- ۶- مسلمانان در روز عید زکات می پردازند.
- الف) غدیر ب) قربان ج) مبعث د) فطر
- ۷- خداوند در کدام یک از سوره های زیر با نام «مَالِكِ يَوْمِ الدِّينِ» از قیامت یاد کرده است؟
- الف) سوره توحید ب) سوره حمد ج) سوره کافرون د) سوره ناس
- ۸- آیه ۳۳ سوره احزاب « إِنَّمَا يُرِيدُ اللَّهُ لِيُذْهِبَ عَنْكُمُ الرِّجْسَ أَهْلَ التَّيْبَةِ وَيُطَهِّرَكُمْ تَطْهِيرًا » بر چه موضوعی تاکید دارد؟
- الف) تولی و تبری
- ب) پاک بودن اهل بیت از هر پلیدی
- ج) امر به معروف و نهی از منکر
- د) انتخاب و معرفی جانشینان توسط خود اهل بیت
- ۹- اولین و آخرین پیامبران خدا به ترتیب چه کسانی هستند؟
- الف) حضرت آدم (ع) - حضرت محمد (ص)
- ب) حضرت محمد (ص) - حضرت آدم (ع)
- ج) حضرت موسی (ع) - حضرت عیسی (ع)
- د) حضرت آدم (ع) - حضرت عیسی (ع)
- ۱۰- در عصر عاشورا چه کسی از امام حسین(ع) خواست تا به میدان جنگ برود؟
- الف) حضرت قاسم (ع)
- ب) حضرت علی اکبر (ع)
- ج) حبیب بن مظاهر
- د) حر بن ریاحی



۵- بیت زیر چه موضوعی دارد؟

به از دست بر سینه، پیش امیر

به دست آهن تفته کردن خمیر


(ب) فعالیت بی اثر

(الف) چاپلوسی و خدمتگزاری

(د) انجام کارهای سخت

(ج) دست زدن به آهن گداخته

۶- در مصراع زیر نقش دستوری عمر گرانمایه چیست؟



عمر گرانمایه در این صرف شد

۷- غلط های املایی را در عبارت زیر مشخص کنید و صحیح آن را بنویسید.

(الف) تا چه خورم سیف و چه پوشم شتا

(ب) که علی بگزر و از ما مگذر

(ج) گفت تو چرا کار نکنی تا از مزلت خدمت رهایی یابی.

(د) با این همه فزیت و معجزات که او را بود.

۸- عبارت زیر چند جمله دارد؟



گفت: تو چرا کار نکنی تا از مزلت خدمت رهایی یابی؟ که خردمندان گفته اند: نان خود خوردن و نشستن به، که کمر زرین بستن و به خدمت ایستادن

۸ (۴)

۶ (۳)

۵ (۲)

۴ (۱)

۹- کتاب ها را به نویسندگان آن وصل کنید.



شهریار

قابوس نامه

عنصرالمعالی کیکاوس

سیاست نامه

خواجه نظام الملک توسی

حیدربابا

[انتشارات گراد]

ارزشیابی

خیلی خوب خوب قابل قبول نیاز به تلاش بیشتر

۱۳- چرا تنوع گیاهی در جنگل های کاج کم است؟

۱۴- چرا نسل برخی از جانوران در خطر انقراض است؟ یک مثال بنویسید.

۱۵- قارچ ها چگونه باعث بهبود و تقویت خاک می شوند؟

۱۶- زنجیره غذایی چیست؟

۱۷- کروکودیل ها انگل های درون دهان خود را چگونه از بین می برند؟

۱۸- یک زنجیره غذایی ساده نام ببرید.

۱۹- موجودات زنده ی زمین از نظر نقش خود در محیط به چند گروه تقسیم می شوند؟ نام ببرید.

۲۰- قارچ ها در کدام قسمت از زنجیره غذایی قرار می گیرند؟

۲۱- چه شغل هایی در ارتباط با محیط های طبیعی وجود دارد؟ (۴ مورد نام ببرید)

.....
-------	-------	-------	-------

۲۲- سه راه آلوده شدن محیط زیست را بنویسید.

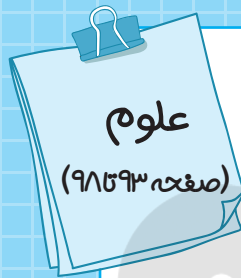
.....
-------	-------	-------

۲۳- رابطه مورچه و شته چه نوع رابطه ای است؟ نقش هر کدام (مورچه و شته) در این رابطه و دوستی چیست؟

[انتشارات گراد]

ارزشیابی

خیلی خوب خوب قابل قبول نیاز به تلاش بیشتر



ارزشیابی فروردین ماه

نام و نام خانوادگی:

نام دبستان:

نام آموزگار:

الف) درستی یا نادرستی عبارات های زیر را مشخص کنید

- ۱- رماتیسم یک بیماری واگیر دار (مسری) است. درست نادرست
- ۲- اگر انسان به بیماری سرخک یا آبله مبتلا شود تا آخر عمر دیگر به این بیماری مبتلا نخواهد شد. درست نادرست
- ۳- جانورانی که میکروب ها در بدن آنها زندگی می کنند ناقل نامیده می شوند. درست نادرست
- ۴- هر عامل بیماری زا را ویروس می نامند. درست نادرست
- ۵- همه باکتری ها مضر هستند. درست نادرست

ب) گزینه درست را انتخاب کنید

- ۶- گویچه های سفید با کدام عامل بیماری زا نمی توانند مبارزه کنند؟
 الف) سرخک ب) دیابت ج) ذات الریه د) آنفولانزا
- ۷- سم ترشح شده از میکروب کدام بیماری به قلب آسیب می رساند؟
 الف) دیابت ب) نرمی استخوان ج) کزاز د) گلودرد چرکی
- ۸- کدام یک از بیماری های زیر جزو بیماری های غیر واگیر است؟
 الف) طاعون ب) پوکی استخوان ج) آنفولانزا د) وبا
- ۹- در کدام بیماری، ویروس به شش ها آسیب می رساند؟
 الف) هیپاتیت ب) سرماخوردگی ج) آنفولانزا د) کزاز

ج) جای خالی را با کلمه های مناسب پر کنید

- ۱۰- ویروس سرماخوردگی در سلول های و ویروس آنفولانزا در سلول های قرار می گیرند.
- ۱۱- به موادی که گلبولهای سفید برای کشتن میکروب ها از خود ترشح می کنند می گویند.
- ۱۲- افرادی که غذاهای پرنمک و سرخ شده با روغن فراوان می خورند در معرض خطر بیماری قرار دارند.
- ۱۳- بعضی از گلبول ها به میکروب ها حمله می کنند و آنها را می خورند به این گلبول ها می گویند.
- ۱۴- بیماری هایی که می توانند از فردی به فرد دیگر منتقل شوند بیماری های نامیده می شوند.



۱۲- عدد $\frac{7}{18}$ را با تقریب کمتر از $0/1$ گرد کنید.

۱۳- اختلاف گرد شده و قطع شده ی عدد $1769/93$ را با تقریب کمتر از 100 حساب کنید.

۱۴- با توجه به جدول، تقریب را محاسبه کنید.

گرد کردن	قطع کردن	با تقریب کمتر از	عدد
		$0/01$	$0/519$
		100	5398

۱۵- اعداد را ابتدا با تقریب داده شده بنویسید؛ سپس روی محور نشان دهید.

385 قطع شده با تقریب کمتر از 10

$278/45$ گرد شده با تقریب کمتر از 100

۱۶- حاصل تقریبی عبارت $(14/85 \times 1/91)$ را به دو روش حساب کنید.

الف) عددها را با تقریب کمتر از $0/1$ گرد کنید؛ سپس حاصل را به دست آورید.

ب) حاصل را به دست آورده؛ سپس با تقریب کمتر از $0/1$ گرد کنید.

۱۷- گرد شده ی یک عدد طبیعی، با تقریب کمتر از 10 برابر 350 شده است. این عدد قبل از تقریب، چه اعدادی می تواند باشد؟

۱۸- در شکل زیر قطر دایره برابر با ضلع مربع است و مرکز دایره بر راس مربع واقع است. اگر شعاع دایره 3 سانتی متر باشد

مساحت قسمت رنگی با تقریب کمتر از (1) به روش گرد کردن چقدر است؟



۱۹- جرم یک برگ از نوعی کاغذ $0/49$ گرم است. جرم 180 برگ کاغذ از این نوع، به طور تقریبی چند گرم است؟

ارزشیابی

خیلی خوب خوب قابل قبول نیاز به تلاش بیشتر

ازلی:	ادبار:
صیف:	مستمع:
کژی:	مصطفی:
پیشه:	انجَب:
تلفات:	هجر:



۸- با توجه به عبارت نوشته شده به سوالات پاسخ دهید.

چهارم، نثر را وقت وقت به نظم آراسته گرداند که بزرگان گفته اند: نظم در قصه خوانی چون نمک است در دیگ، اگر کم باشد، طعام بی مزه بود و اگر بسیار گردد شور شود، پس اعتدال، نگاه باید داشت

تعداد جملات: نهاد جمله ی چهارم: ترکیب وصفی:

ترکیب اضافی (یک مورد) مفعول:

آرایه: (در کدام قسمت و نوع آرایه نوشته شود)

۹- با توجه به معنای کلمه شکل صحیح واژه ها را مشخص کنید.

الف) (ناگزیر-ناگذیر): ناچار (ب) (معاصر-معاصر): هم دوره

ج) (ایثار-ایصار): فداکاری (د) (احسان-احسان): نیکی

۱۰- در کدام گزینه «را» به معنی «به» آمده است؟

الف) دوستان کهن را برجای همی دار

ب) بدکننده را زندگانی کوتاه باشد

ج) ما را یادگاری ده از علم خویش

د) بزرگی فرزندی را پرسید

۱۱- در جمله ی «ستاره ی روشن ما بودی که ما را راه راست نمودی» چه آرایه ای به کار رفته است؟

جان بخشی تضاد تشبیه کنایه

۱۲- مخفف کدام یک از کلمه های زیر درست نیست؟

دی: دیروز شه: شاه مه: ماه جار: جارو

ارزشیابی

خیلی خوب خوب قابل قبول نیاز به تلاش بیشتر



۱۳- علی و خانواده اش قصد سفر زیارتی به کشور عراق را دارند برای خروج از کشور نیازمند و سپس از کشور مورد نظر باید دریافت نمایند.

۱۴- کشورهای و در کشف سرزمین های جدید پیشگام بودند.

د) به سوالات زیر به صورت تشریحی پاسخ دهید.

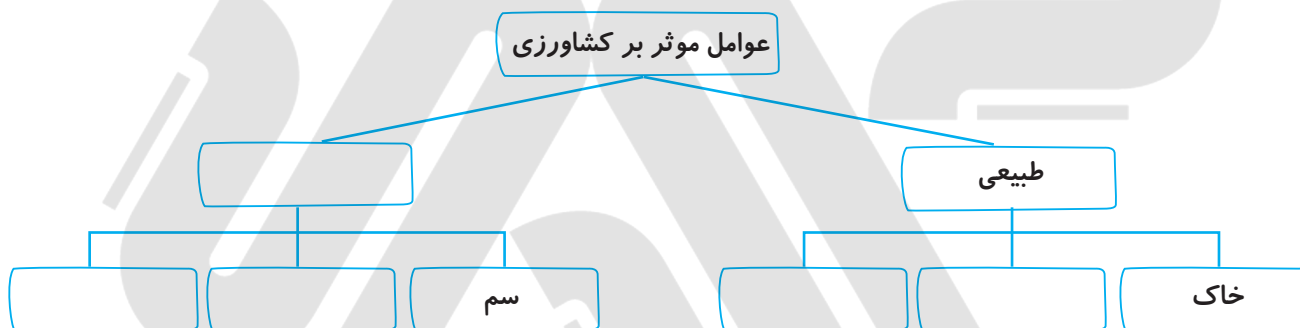
۱۵- خلیج چیست؟

۱۶- فاطمه برای انتخاب دوست کمک می خواهد، پیشنهاد شما به او برای انتخاب دوست چیست؟ (۳ مورد)

۱۷- عوامل گسترش علوم و فنون در دوره ی اسلامی را نام ببرید.

۱۸- در هنگام خرید لباس به چه نکاتی باید توجه کرد؟ (۲ مورد)

۱۹- جدول را کامل کنید.



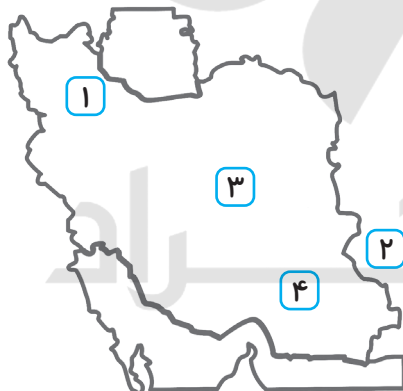
۲۰- موقعیت خواسته شده روی نقشه را بنویسید.

۱. نام رود

۲. نام کشور همسایه

۳. نام رود

۴. بندر



ارزشیابی

خیلی خوب خوب قابل قبول نیاز به تلاش بیشتر

